

01

Em todas as sociedades, e em períodos diversos da história, os saberes geográficos marcam sua importância. Analise a veracidade (V) ou a falsidade (F) das afirmações abaixo, sobre os saberes geográficos das sociedades.

- () Os gregos desenvolveram noções de linhas imaginárias, de projeções cartográficas, de latitude, de longitude, entre outros.
- () Cláudio Ptolomeu defendeu a ideia de que a Terra era o centro do Universo e que tanto o Sol como a Lua e os demais planetas orbitavam em torno dela, originando a teoria geocêntrica.
- () O primeiro mapa mundi foi elaborado pelo italiano Tales de Mileto, que destacou os continentes, os oceanos, os paralelos e os meridianos.

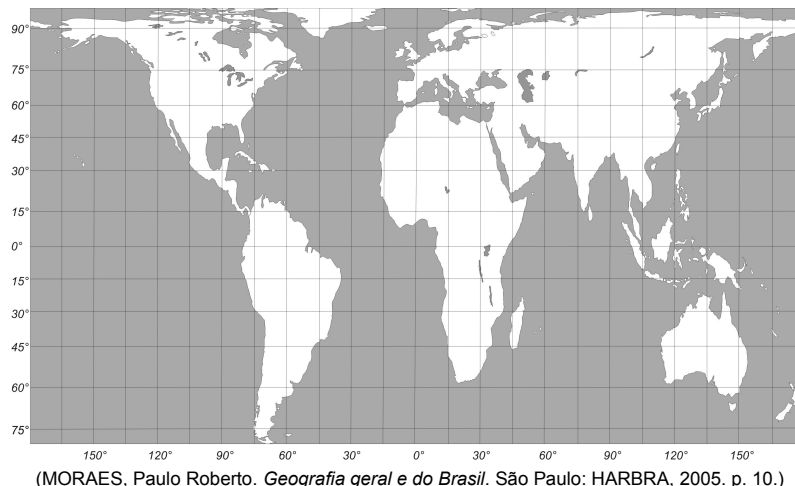
Assinale a alternativa que preenche corretamente os parênteses, de cima para baixo.

- a) V – V – F
 - b) V – F – F
 - c) F – V – V
 - d) V – F – V
 - e) F – V – F
-

02

As projeções cartográficas são o resultado de um conjunto de operações que representam, no plano, através de paralelos e meridianos, os fenômenos que estão dispostos na superfície de uma esfera.

Na projeção abaixo as áreas são preservadas, porém as formas são distorcidas. Segundo alguns analistas, essa projeção passa uma ideia de igualdade, valorizando as nações pobres e quebrando a visão de superioridade das nações ricas situadas no Hemisfério Norte. Observe a projeção abaixo.



(MORAES, Paulo Roberto. *Geografia geral e do Brasil*. São Paulo: HARBRA, 2005. p. 10.)

Qual é a projeção apresentada no mapa e nos dados acima?

- a) Mollweide.
 - b) Mercator.
 - c) Equidistante.
 - d) Peters.
 - e) Azimutal Cônica.
-

03

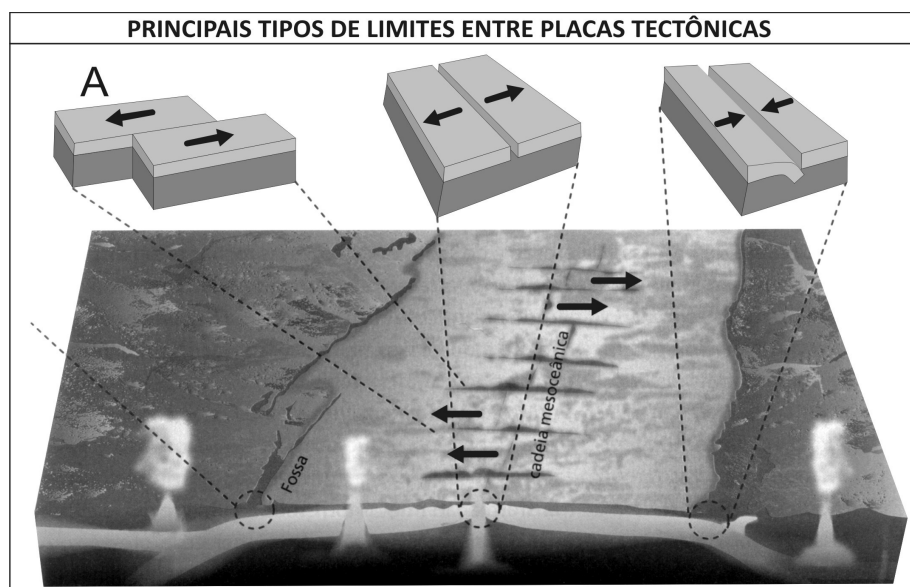
Os agentes internos estão representados pelo vulcanismo, pelo tectonismo e pelos abalos sísmicos, que formam e modificam o relevo terrestre; os agentes externos estão representados pela água, pelo vento, pelo gelo e pelos seres vivos, que atuam conjuntamente, modificando e modelando o relevo da superfície terrestre. Sobre os agentes internos e externos é correto afirmar que

- a) loess são depósitos de sedimentos grossos, comumente avermelhados, originadas de ação sedimentar do derretimento de gelo.
- b) depressão absoluta é situada acima do nível do mar, formada de sedimentos, transportados pela erosão fluvial.

- c) fiords são braços de mar, escavados pela erosão pluvial, em forma de “V”, localizados em litorais montanhosos.
- d) falésias formam costões no litoral e são estruturadas por planícies, originadas pela erosão glacial em contato com a água do mar.
- e) restinga é formada por acúmulo de sedimentos, promovido pela ação dos oceanos, e pelo depósito de areia trazida pelas ondas, próximo à foz dos rios.

04

Tectônica de placas é uma teoria que demonstra a crosta terrestre formada por um conjunto de placas que deslizam por causa das correntes de convecção no interior da terra. Muitas dessas falhas ocorrem nos oceanos, embora elas possam se estender para o interior do continente, como por exemplo a Falha de San Andrés, na Califórnia, nos Estados Unidos. Observe a gravura abaixo.



(TEIXEIRA, Wilson e outros (org.) *Decifrando a Terra*. 2. ed. São Paulo: Companhia Editora Nacional, 2009.)

Na gravura acima a letra “A” corresponde ao movimento da placa que exemplifica a origem da Falha de San Andrés. Essa falha se movimenta com bordas

- a) construtivas.
- b) destrutivas.
- c) transformantes.
- d) divergentes.
- e) convergentes.

05

A obra *Canto Geral*, de Pablo Neruda, traz versos com que o autor denuncia a exploração dos recursos minerais no Chile pelos Estados Unidos:

*Quando chegam de Nova York
As vanguardas imperiais,
Engenheiros calculistas,
agrimensores peritos,
e medem terra conquistada
estanho, petróleo, bananas,
nitrato, cobre, manganês,
açúcar, ferro, borracha, terra...*

(NERUDA, Pablo. *Canto Geral*. São Paulo: Bertrand Brasil, 2002.
In: DADÀ, Martins e outros. *Geografia, Sociedade e Cotidiano*. São Paulo: Educacional, 2010. p.108.)

Os recursos naturais estanho e petróleo, citados no verso acima, respectivamente, pertencem às rochas

- a) metamórfica e ígnea.
- b) magmática e sedimentar.
- c) magmática e metamórfica.
- d) ígnea e magmática.
- e) metamórfica e sedimentar.

06

O Brasil apresenta cerca de 14% das reservas de água doce líquidas do globo, o que explica a enorme importância econômica e geopolítica dessa região. Uma dessas reservas é a bacia hidrográfica do rio São Francisco, sobre a qual é correto afirmar que

- a) abrange toda a área da Depressão Diamantina, onde se localizam os povoados mais antigos do Brasil.
- b) possui afluentes extensos, a maioria temporários, e predominam os rios de planície.
- c) corta uma região do semiárido, é utilizada para navegação, irrigação e produção de energia.
- d) nasce na serra da Canastra e deságua no oceano Atlântico na divisa entre Alagoas e Recife.
- e) possui grande potencial hidrelétrico, com destaque para as usinas de Machadinho, Xingó e Três Marias.

07

O conceito de comunidade é amplo e pode ser relacionado tanto a grupos como a classes trabalhadoras, a movimentos sociais, a profissionais, a populações tradicionais ou até a grupos supranacionais. Pode-se dizer que

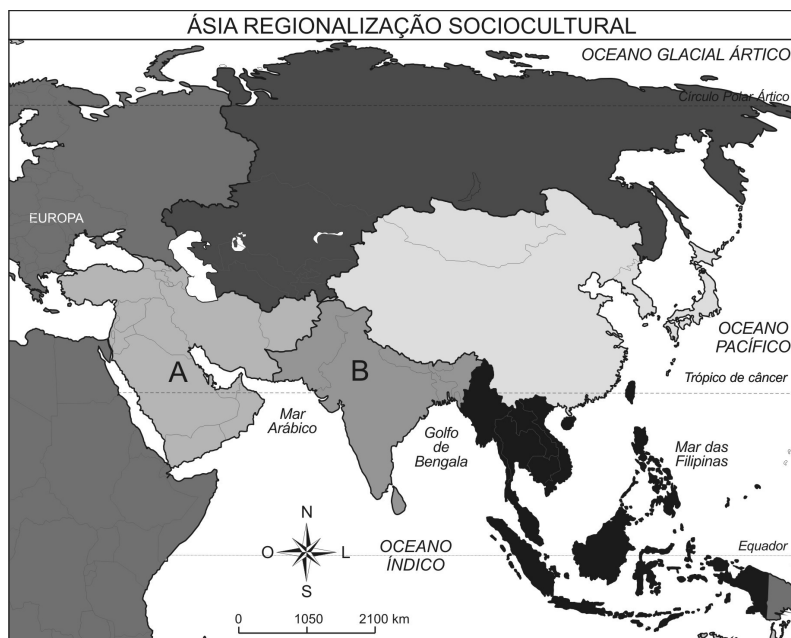
- I as comunidades autóctones se formam através de indivíduos oriundos da terra que habitam, sem ter vindo de outras partes, migrado ou imigrado, ao que designamos de nativos.
- II as comunidades quilombolas se formam através das populações remanescentes dos quilombos, descendentes de negros que, durante o período da escravidão no Brasil, formavam povoados de resistência à Coroa portuguesa ou a grandes propriedades de terra.
- III as comunidades extrativistas se formam através da população que vive nas florestas, da caça e da pesca, recebem o nome de caiçaras e formam grupos cooperativos de pesca artesanal.

Das afirmativas acima

- a) apenas I está correta.
- b) apenas II está correta.
- c) apenas III está correta.
- d) apenas I e II estão corretas.
- e) I, II e III estão corretas.

08

Algumas características socioculturais do Continente Asiático permitem fazer uma regionalização em grandes conjuntos, como se observa no mapa abaixo (2008).



(ALBUQUERQUE, Maria A. M.; BIGOTTO, José F.; VITIELLO, Márcio A. *Geografia: sociedade e cotidiano*. Vol. 3. 2. ed. São Paulo: Escala, 2010. p. 85.)

As regiões que correspondem, correta e respectivamente, às letras A e B, localizadas no mapa acima, são

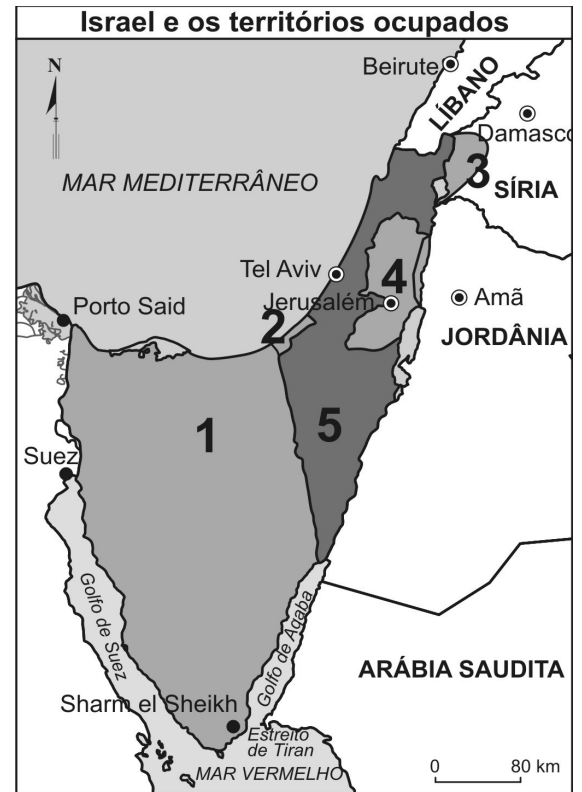
- a) Sudeste Asiático e Ásia Oriental.
- b) Ásia Meridional e Ásia Central.
- c) Oriente Médio e Sudeste Asiático.
- d) Ásia Central e Sudeste Asiático.
- e) Oriente Médio e Ásia Meridional.

09

No final de 2012, o grupo radical Hamas conseguiu garantias do governo israelense para a interrupção das incursões militares e dos assassinatos coletivos, em troca do fim dos ataques militares palestinos, da abertura de pontos de cruzamento, de maior facilidade para movimentação de pessoas e bens e de que as tropas de Israel não atirassem contra residentes em áreas fronteiriças na faixa de Gaza.

Qual o número da figura ao lado que indica a Faixa de Gaza?

- a) 1
- b) 2
- c) 3
- d) 4
- e) 5



(MAGNOLI, Demétrio; ARAUJO, Regina. *Geografia: a construção do mundo*. São Paulo: Moderna, 2005. p. 520.)

10

Os países dos Balcãs localizam-se no sudeste europeu e são formados, na maioria, por repúblicas desmembradas da antiga Iugoslávia, com exceção da Albânia. Sobre os Balcãs, é correto afirmar que

- I conflitos, invasões, guerras e acordos acabaram determinando o desmembramento da Iugoslávia ao longo das décadas de 1990 e 2000, criando-se uma nova organização geopolítica na região.
- II a Bósnia-Herzegovina é o país que apresenta os menores problemas na região: baixos índices de desemprego e de crescimento demográfico, alto índice de alfabetização e a balança comercial equilibrada.
- III Kosovo declarou sua independência em 2008, mas não foi totalmente reconhecida internacionalmente; reivindica, portanto, ainda, sua autonomia.

Das afirmativas acima,

- a) apenas I está correta.
- b) apenas II está correta.
- c) apenas III está correta.
- d) apenas I e III estão corretas.
- e) I, II e III estão corretas.